




Rodzeństwo

- 1 Hubert miał 33 żołnierzyki. Kilkanaście żołnierzyków dał młodszemu bratu Wojtusiowi i zostało mu 19 żołnierzyków. Ile żołnierzyków Hubert dał Wojtusiowi?




- 2 W poniedziałek Ola była 28 minut na spacerze z psem. We wtorek Julka spacerowała z psem 45 minut. O ile minut dłużej Julka spacerowała z psem?



- 3 Mama kupiła spodnie dla Kuby i dla Zosi. Spodnie Kuby kosztowały 41 zł. Zosia obliczyła, że jej spodnie były o 12 zł tańsze. Ile kosztowały spodnie Zosi?

- 4 Tomek dostał puzzle złożone z 75 elementów. Basia dostała puzzle złożone z 59 elementów. O ile mniej elementów jest w puzzlach Basi?



- 5 Piotruś miał w skarbonce 19 zł i Zuzia miała 19 zł. Za każdy sprzedany na kiermaszu obrazek dzieci dostały po 2 zł. Piotruś sprzedał 6 obrazków, a Zuzia – 9. Zarobione pieniądze dzieci wrzuciły do swoich skarbonek.
- Kto będzie miał więcej pieniędzy: Piotruś czy Zuzia?
 - Ile zarobiło każde dziecko?
 - Ile pieniędzy ma teraz w skarbonce Zuzia, a ile ma Piotruś?
 - O ile więcej pieniędzy ma w skarbonce Zuzia?




W gospodarstwie


- 1 Gospodyni karmi kurczątka drobno posiekanymi jajkami 4 razy dziennie. Ugotowała 20 jajek. Ile jajek zjadają kurczątka w ciągu jednego karmienia?



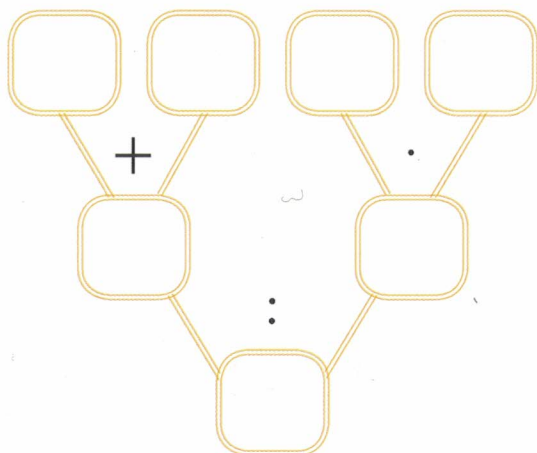
- 2 Gospodarz miał 14 królików. W 4 klatkach były po 3 króliki, a w piątej klatce pozostałe. Ile królików było w piątej klatce?



- 3 W zagrodzie jest 19 owiec białych i 17 czarnych. W ciągu 1 godziny gospodarz strzyże 4 owce. Ile godzin potrzebuje gospodarz na ostrzyżenie wszystkich owiec?



- 4 W gospodarstwie są 2 konie. Każdy koń otrzymuje dziennie 3 kg owsa. Gospodarz ma w jednym worku 30 kg owsa, a w drugim – 18 kg. Na ile dni wystarczy owsa dla tych koni?





Na biwaku



1 Przeczytaj tekst i rozwiąż zadania.

Zuchy z drużyny „Leśne ludki” przygotowują się do wyjazdu na biwak. Drużyna składa się z 4 zastępów – w każdym zastępie jest 6 osób. Na biwaku zuchy będą mieszkać w trzosobowych namiotach.

W piątek rano drużynowy powiedział, że wyjazd zaplanowano za 5 dni o godzinie 8.30 rano.

Zuchy już nie mogą doczekać się biwaku...

- Z ilu zuchów składa się drużyna?
- W ilu namiotach będą mieszkać zuchy?
- Którego dnia tygodnia zaplanowano wyjazd na biwak?
- Ile godzin trwała podróż, jeżeli zuchy były na miejscu o godzinie 10.30?
- Drużynowy wyznaczył 5 chłopców do pełnienia warty i 4 dziewczynki do przygotowania kanapek. Z pozostałą grupą zuchów wyruszył do lasu. Ile zuchów poszło do lasu?
- Dziewczynki przygotowały 16 kanapek z serem i 8 z szynką. Czy wystarczy kanapek dla wszystkich zuchów z drużyny?

